



---

**EVALUAREA COMPETENȚELOR FUNDAMENTALE  
LA FINALUL CLASEI a II-a  
2014**

**MODEL 2**

**MATEMATICĂ**

**Județul / sectorul.....**

**Localitatea.....**

**Școala.....**

**Numele și prenumele elevei / elevului.....**

.....

**Clasa a II-a.....**

**Băiat**

**Fată**

Radu și colegii săi au vizitat sera de flori unde lucrează mama lui Radu. De la seră s-au cules pentru florării 419 lalele, 360 de zambile, 306 garoafe și 277 de trandafiri.



419 lalele



360 de zambile



306 garoafe



277 de trandafiri

1. Care este ordinea crescătoare a florilor culese, în funcție de numărul lor?

**Încercuiește litera corespunzătoare răspunsului corect.**

- a) lalele, zambile, garoafe, trandafiri
- b) trandafiri, garoafe, zambile, lalele
- c) trandafiri, zambile, garoafe, lalele
- d) lalele, garoafe, zambile, trandafiri

Nu se completează de către elev

COD

1.

2. Radu crede că numărul zambilelor este mai mare decât numărul garoafelor.

**Scrive semnul potrivit (<, > sau =) între numărul zambilelor și cel al garoafelor pentru a arăta dacă are dreptate.**

360  306

Nu se completează de către elev

COD

2.

3. Care dintre operațiile de mai jos trebuie efectuată pentru a afla care este numărul total de lalele și de zambile culese?

**Încercuiește litera corespunzătoare răspunsului corect.**

- a)  $419 + 306$
- b)  $419 + 360$
- c)  $419 - 306$
- d)  $419 - 360$

Nu se completează de către elev  
COD

3.	<input type="text"/>
----	----------------------

4. Câte garoafe ar mai trebui culese pentru ca numărul lor să fie egal cu numărul lalelelor?

**Încercuiește litera corespunzătoare răspunsului corect.**

- a) 13 garoafe
- b) 33 garoafe
- c) 103 garoafe
- d) 113 garoafe

Nu se completează de către elev  
COD

4.	<input type="text"/>
----	----------------------

5. Mama lui Radu culege lalele timp de două săptămâni și o zi. Câte zile culege lalele mama lui Radu?

**Încercuiește litera corespunzătoare răspunsului corect.**




- a) 8 zile
- b) 14 zile
- c) 15 zile
- d) 16 zile

Nu se completează de către elev  
COD

5.	<input type="text"/>
----	----------------------

6. Ajuns acasă, Radu îi face mamei sale o felicitare cu model de flori. Care sunt cele două flori cu care se continuă modelul?

**Încercuiește litera corespunzătoare răspunsului corect.**

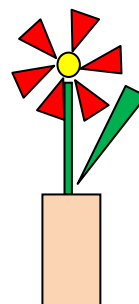


*Nu se completează de către elev*  
COD

6.	<input type="text"/>
----	----------------------

7. Radu a desenat o floare într-o vază. Ce figură geometrică a folosit pentru a desena vaza?  
**Încercuiește litera corespunzătoare răspunsului corect.**

- a) cerc
- b) pătrat
- c) triunghi
- d) dreptunghi



Nu se completează de către elev  
 COD

7.

8. Radu și colegii săi au arătat, în tabelul de mai jos, ce flori de la seră le-au plăcut cel mai mult.

**Scrive, în spațiul dat, răspunsul corect.**

<b>Lalele</b>	😊😊😊😊😊😊😊😊😊😊😊😊
<b>Zambile</b>	😊😊😊😊😊😊😊😊😊😊
<b>Garoafe</b>	😊😊😊
<b>Trandafiri</b>	😊😊😊😊😊😊


Cele mai îndrăgite flori de către copii sunt .....

Nu se completează de către elev  
 COD

8.



11. Un buchet de trandafiri costă 27 de lei, iar unul de lalele cu 9 lei mai puțin. De câți lei are nevoie Radu pentru a cumpăra mamei sale un buchet de lalele?  
**Scrive, pe spațiul dat, rezolvarea.**



Nu se completează de către elev  
COD

11.	<input type="text"/>
-----	----------------------

12. Ajutat de mama sa, Radu a plantat în grădină 9 gladiole, 28 de lalele și 13 zambile.  
**Notează datele corespunzătoare în spațiile libere din tabel.**

Florile	Numărul
Gladiole	
	28
Zambile	

Nu se completează de către elev  
COD

12.	<input type="text"/>
-----	----------------------

**FELICITĂRI, AI AJUNS LA SFÂRȘITUL TESTULUI!!**  
**MULȚUMIM PENTRU PARTICIPARE!**